





















地図記号の問題(初級編)

名前

○下の地図記号が表しているものは何か答えましょう。

① 	② 	③ 	④ 	⑤ 
⑥ 	⑦ 	⑧ 	⑨ 	⑩ 
⑪ 	⑫ 	⑬ 	⑭ 	⑮ 
⑯ 	⑰ 	⑱ 	⑲ 	⑳ 

⑰⑱⑲⑳は、新しくできた地図記号です。